

桂林市2025-2026学年度下学期非毕业年级日常考试题库卷

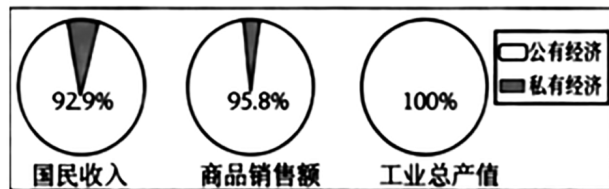
八年级 历史

(考试形式为闭卷;总分100分,考试用时75分钟)

- 注意事项: 1. 试卷分为试题卷和答题卡两部分,在本试题卷上作答无效。
2. 答题前,请认真阅读答题卡上的注意事项。
3. 考试结束,只需将答题卡交回即可。

一、选择题(1~24题,每小题2分,共48分。下列各题四个选项只有一个符合题意,请你仔细判断,用2B铅笔把对应题目的答案标号涂黑。)请将答案填写在答题卡上。

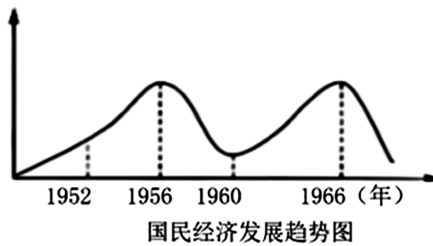
- 1949年9月,中国人民政治协商会议第一届全体会议召开,参会人员共662人,来自党派、区域、军队、团体和特邀5个界别的46个单位。说明此次会议具有
A. 合法性 B. 民主性 C. 稳定性 D. 针对性
- 北京天安门广场原为皇家专用,在中华人民共和国成立后成为了公众场所。这反映了
A. 人民地位的提高 B. 地主阶级被消灭 C. 民族团结的实现 D. 大陆统一的完成
- 第一手史料具有原始性、直接性和实证性。适用于研究西藏和平解放的第一手史料是
A. 个人日记 B. 现场照片 C. 历史评论 D. 文学作品
- 毛泽东说“我们不出兵让敌人压至鸭绿江边,国内国际反动气焰增高,则对各方都不利,首先是对东北更不利。”这表明抗美援朝是为了
A. 发展工业 B. 改善民生 C. 争取独立 D. 保家卫国
- 在上甘岭战役中有一位战士奋不顾身,用胸膛堵住敌人的枪口,壮烈牺牲。他就是
A. 邱少云 B. 黄继光 C. 罗盛教 D. 杨根思
- 一封写于1951年的家书中,有这样一段内容:“因为家里分了五亩地,老人高兴得一宿没睡,说这辈子总算有了自己的地了”。与这一描述直接相关的是
A. 开国大典 B. 土地改革 C. 改革开放 D. 希望工程
- 1954年9月,第一届全国人民代表大会通过了《中华人民共和国宪法》,宪法规定了我国的国家性质和政治制度。这体现了我国
A. 法治建设发展 B. 基础设施完善 C. 国防装备精进 D. 社会性质改变
- 从下图可知,1956年我国基本实现生产资料



1956年我国公私经济成分比重图

- 私有制 B. 中外合资 C. 公有制 D. 公私合营
- 中共八大根据对当时国内主要矛盾的分析,指出主要任务是集中力量把我国尽快地从落后的农业国变为先进的工业国。这体现的原则是
A. 立足国情 B. 独立自主 C. 以民为本 D. 科学发展

10. 从下图可知1956年—1966年中国国民经济发展表现为



- A. 停滞不前 B. 高速发展 C. 持续走低 D. 曲折发展
11. 1978年5月11日,《光明日报》刊登《实践是检验真理的唯一标准》一文,引发思想理论界的大讨论。这次思想讨论的主题是
A. 平反冤假错案 B. 民主与法治 C. 真理标准问题 D. 坚持阶级斗争
12. 实行家庭联产承包责任制后,农村生产向着专业化、商品化、社会化迅速发展。这段材料说明了家庭联产承包责任制的
A. 背景 B. 过程 C. 性质 D. 意义
13. 改革后的国有企业,在生产计划、产品销售、利润分配等方面拥有更多自主权。说明改革
A. 实行政社合一 B. 发展乡镇企业 C. 增强企业活力 D. 取消计划经济
14. “三月三”是壮族的传统节日,2014年成为广西壮族自治区的法定节假日。这体现了
A. 尊重民族文化 B. 普及基础教育 C. 支援边疆开发 D. 促进工业发展
15. 从1980年到1988年,我国先后建立了五个经济特区,其中面积最大的是
A. 海南省 B. 珠海市 C. 厦门市 D. 深圳市
16. 港澳回归祖国,为国际社会解决历史遗留问题提供了中国方案。这个方案是
A. 求同存异 B. 乒乓外交 C. 一国两制 D. 一带一路
17. 中国在21世纪积极顺应世界经济全球化潮流。与此相关的事件是
A. 中国重返联合国 B. 中美关系正常化
C. 中国加入世贸组织 D. 中日邦交正常化
18. 近年来,航母、大型驱逐舰等大国重器相继诞生,歼-20、运-20、直-20等先进战机批量列装。这反映我国国防建设的成就表现为
A. 政治建军 B. 依法治军 C. 科技强军 D. 改革强军
19. 中共中央开展反腐败斗争,重点查处党内违纪案件,强化党员干部队伍纯洁度建设。此举体现了我国积极推进
A. 依法治国 B. 制度创新 C. 深化改革 D. 从严治党
20. 2015年中国科学家屠呦呦获得“诺贝尔生理学或医学奖”,和她获奖有关的研究是
A. 青蒿素 B. 核潜艇 C. 北斗系统 D. 牛胰岛素
21. 华为芯片、DeepSeek、宇树机器人等中国产品的问世,反映了我国
A. 人口快速增长 B. 信息技术发展 C. 商业服务完善 D. 对外贸易扩大
22. 根据下表内容,判断与之发展相关的战略是

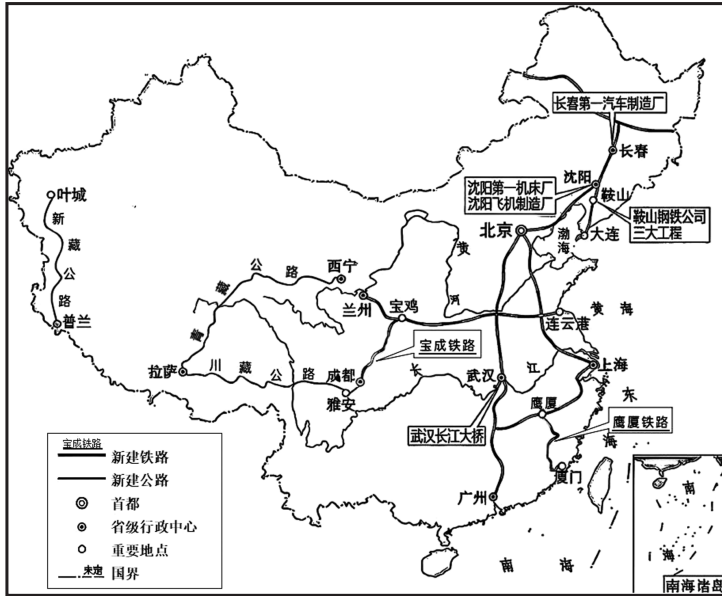
地区	年份	文盲率 (%)	卫生技术人员数 (人/千人口)	医疗卫生床位数 (万张/千人口)	城乡基本养老参保率 (%)
西部地区	2000	13.1	3.23	2.33	5.50
	2019	6.66	7.37	6.84	42.02

- A. 科教兴国 B. 可持续发展 C. 西部大开发 D. 对外开放
23. 通过植树造林,2016年中国成为全球森林资源增长最多的国家。这体现的发展理念是
A. 共享 B. 绿色 C. 创新 D. 协调
24. 中国老百姓的生活从“有啥吃啥”到“吃啥有啥”,从破烂平房到漂亮楼房,从满街自行车到遍地私家车。带来这些变化的主要原因是
A. 消费观念改变 B. 经济快速发展 C. 饮食结构升级 D. 文化教育进步

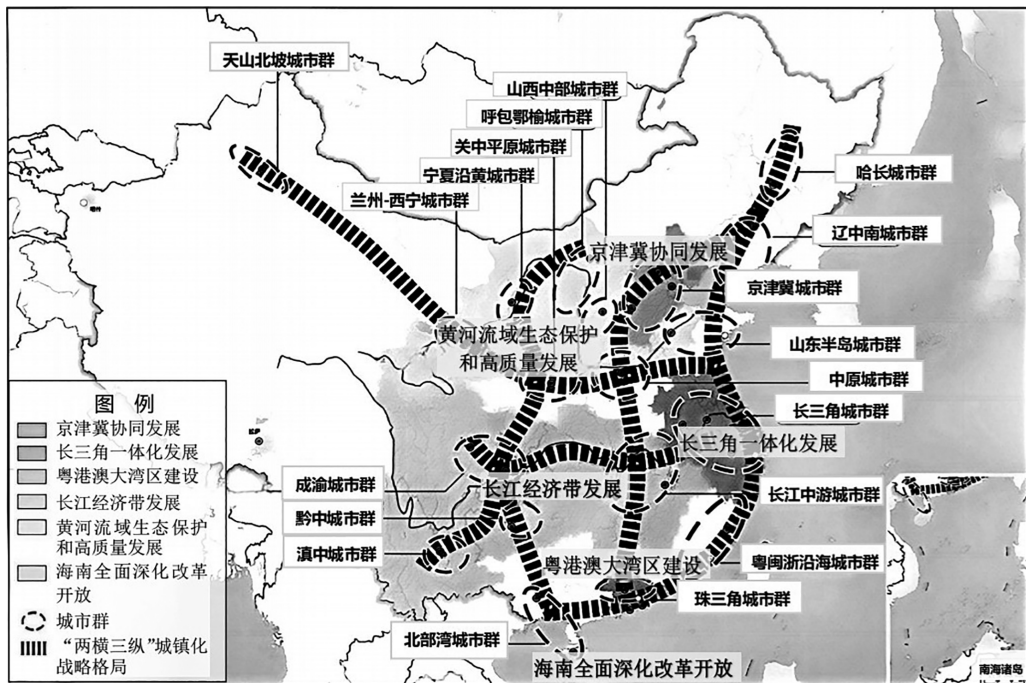
二、非选择题(第 25 题 18 分,第 26 题 18 分,第 27 题 16 分,共 52 分。)请将答案填写在答题卡上

25. (18 分)科学制定和接续实施五年规划,是我们党治国理政一条重要经验。阅读材料,回答问题。

材料一 第一个五年计划期间工业交通建设主要成就分布图(见下图)



材料二 “十四五”规划中的《城镇化空间格局示意图》(见下图)



- (1) 根据材料一,找出第一个五年计划期间我国经济建设取得的两项成就,并分别指出其带来的积极作用。(8分)
- (2) 根据材料二,归纳我国城镇建设发展的三个趋势。(6分)
- (3) 综合上述材料,分析制定和实施五年计划的意义。(4分)

26. (18分)学校正在开展“汲取精神之源,凝聚奋进力量”主题学习活动,请你参与布展工作。

【人物风采】



①王进喜参加石油大会战



②黄文秀帮村民掰玉米



③杨利伟走出“神五”返回舱



④焦裕禄在兰考

中国共产党精神谱系(1949年至今)		
时期	精神谱系	代表人物
1949年—1978年	抗美援朝精神、大庆精神、雷锋精神、焦裕禄精神、红旗渠精神、“两弹一星”精神等。	序号: ④
1978年—2012年	改革开放精神、特区精神、载人航天精神、劳模精神等。	序号: _____
2012年至今	脱贫攻坚精神、抗疫精神、科学家精神、探月精神等。	序号: _____

——改编自部编版《中国历史》八年级下册

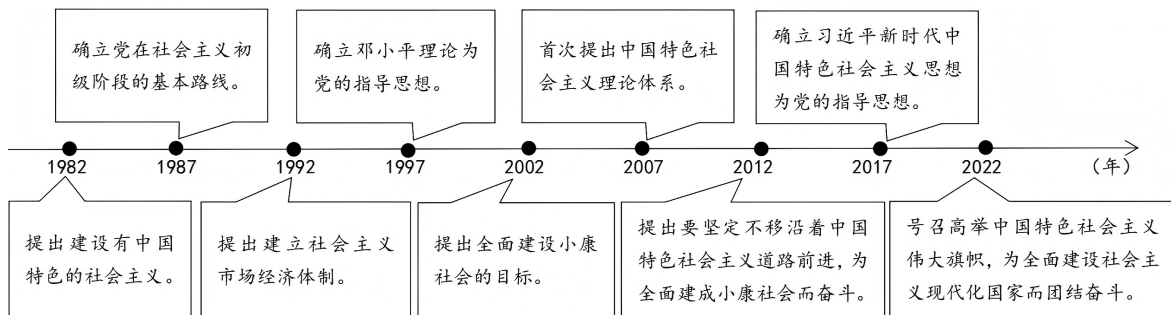
(1)观察人物风采介绍,在谱系表“代表人物”栏填入相应人物图片。(只填序号,6分)

(2)结合所学知识,选取“人物风采”中的一张照片进行介绍。(所选人物不与示例重复,8分)

示例:选取图片④。20世纪60年代,焦裕禄带领兰考人民治理内涝、风沙、盐碱“三害”,身患肝癌仍坚持工作,直至生命最后一刻,体现了亲民爱民、艰苦奋斗、科学求实、迎难而上、无私奉献的焦裕禄精神。

(3)结合所学知识,说说宣传先锋模范的意义。(4分)

27. (16分)历次党代会做出的重大决策,引领了中华民族的伟大复兴。阅读材料,回答问题。



(1)根据材料写出引领中华民族伟大复兴的两位领导人。(4分)

(2)从材料中提取相关信息,自拟主题,结合两个或以上具体史实加以阐述。(要求:论题明确,观点正确,史论结合,逻辑清晰。)(12分)

八年级历史 参考答案

一、选择题（1~24 题，每小题 2 分，共48分。）

题号	1	2	3	4	5	6	7	8	9	10	11	12
答案	B	A	B	D	B	B	A	C	A	D	C	D
题号	13	14	15	16	17	18	19	20	21	22	23	24
答案	C	A	A	C	C	C	D	A	B	C	B	B

二、非选择题题（共 52 分。第 26 题 18 分，第 27 题 16 分，第 28 题 18 分。）

25.（18 分）

（1）成就和作用：长春第一汽车制造厂等的建成，有助于东北工业基地的形成。青藏公路的建成，密切了与边疆地区的联系；宝成铁路建设，完善了区域间的交通网。长江大桥建成，连接了长江南北的交通。（8分。成就及相对应的作用各2分，任答2项）

（2）趋势：加强区域内城镇协调合作。推动城市群发展。规划两横三纵的城镇格局。（6分。每点2分）

（3）意义：明确建设目标。立足发展实际。有序规划统筹。实现长期布局。有利于持续深入。（任意2点，4分）

26.（18 分）

（1）序号：① ③ ②（6分）

（2）共8分。介绍：选择图片2分；指出时间2分；描述背景和事迹2分；分析影响2分

（3）意义：引领社会风气；传承红色基因；增强民族自信。（任意2点，4分）

27.（16分）

（1）领导人：邓小平。习近平。（4分）

（2）共12分。论题明确，2分。围绕主题选择两个史事进行阐释，8分。（一个史事2分，对应的阐释2分）。观点正确，2分。

示例一：小康社会的进程

论述：2002年，党中央提出全面建设小康社会的奋斗目标，致力于提高人民生活水平。2012年，进一步提出全面建成小康社会、全面深化改革、全面从严治党的目标，强调决胜小康。2020年，党中央提出以中国式现代化全面推进中华民族伟大复兴，强调全体人民共同富裕。实践证明，从全面建设小康到全体人民共同富裕，党的奋斗目标始终围绕人民利益。

示例二：中国特色社会主义的发展

论述：1982年，邓小平提出“建设有中国特色的社会主义”，指明了中国的发展方向。1992年，中共十四大提出建立社会主义市场经济体制，将社会主义基本制度与市场经济相结合，这是中国特色社会主义道路的关键突破。2020年，党中央提出以中国式现代化全面推进中华民族伟大复兴，进一步丰富了中国特色社会主义的内涵。这条道路立足国情，日益成熟，展现出强大生命力。实践证明，只有立足国情，走自己的路，才能推动国家走向繁荣富强。

示例三：思想理论取得重要成就

论述：1997年，中共十五大确立邓小平理论为党的指导思想，回答了什么是社会主义、怎样建设社会主义的问题。2017年，中共十九大确立习近平新时代中国特色社会主义思想为党的指导思想，回答了“新中国怎么发展的”的问题，立实现了马克思主义中国化新的飞跃。两次理论创新都立足中国实际，指导中国不断前进。实践证明，马克思主义只有中国化、时代化，才能永葆生机与活力，才能引领中国在复兴之路上不断夺取新的伟大胜利。