

桂林市2024~2025学年度下学期期末调研试卷

八年级 历史

(考试形式为闭卷;总分100分,考试用时50分钟)

注意事项: 1. 试卷分为试题卷和答题卡两部分,在本试题卷上作答无效。

2. 答题前,请认真阅读答题卡上的注意事项。

3. 考试结束,只需将答题卡交回即可。

一、选择题(1-22题,每小题3分,共66分。下列各题的选项中只有一个符合题意,请仔细判断,用2B铅笔把答题卷上对应题目的答案标号涂黑。)请将答案填写在答题卡上

1. 1949年9月,中国人民政治协商会议第一届全体会议在北平召开。根据下表中会议代表的组成情况可知会议

党派代表	区域代表	人民解放军代表	团体代表	特邀人士
165人	116人	71人	235人	75人

- A. 选举出中央人民政府委员会
B. 标志着中国全境解放
C. 确立中国共产党的领导地位
D. 参会代表具有广泛性

2. 1949年10月,《人民日报》报道:“中国人民从此有了屹立于世界和平民主阵营的祖国,有了真正能保护自己、代表自己的政府。”通过该报道可知

- A. 祖国大陆实现统一
B. 中华人民共和国的成立
C. 世界和平得以实现
D. 人民代表大会制度确立

3. 在朝鲜战场上,志愿军将士中涌现出黄继光、邱少云等30多万名英雄功臣和近6000个功臣集体。志愿军将士的英勇事迹让我们感受到了


- A. 北大荒精神
B. 抗美援朝精神
C. 老西藏精神
D. 脱贫攻坚精神

4. 1954年9月,第一届全国人民代表大会第一次会议在北京召开。大会通过的法律是

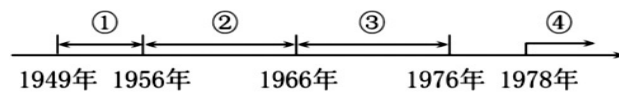
- A. 《中国人民政治协商会议共同纲领》
B. 《中华人民共和国宪法》
C. 《中华人民共和国民族区域自治法》
D. 《反分裂国家法》

5. 下图介绍了1956年我国生产资料所有制中公有和私有的占比。推动这一局面形成的是


- A. “一五”计划实施
B. “大跃进”的开展
C. 真理标准的讨论
D. 三大改造的完成



6. 1956年,中国共产党第八次全国代表大会召开。根据社会主义基本制度在我国已经建立起来的新形势,会议指出党和人民的主要任务是集中力量把我国尽快地从落后的农业国变成先进的工业国。”这反映出当时中国社会的主要矛盾是
- A. 人民政权同国内反动势力的矛盾 B. 工人阶级与资产阶级的矛盾
- C. 中国人民同国际敌对势力的矛盾 D. 先进的社会制度同落后的生产力的矛盾
7. 20世纪60年代,河南兰考县委书记带病坚持工作,率领当地人民治理灾害,被称颂为“党的好干部”。这位县委书记是
- A. 雷锋 B. 王进喜 C. 焦裕禄 D. 孔繁森
8. 邓小平说:“一个党,一个国家,一个民族,如果一切从本本出发,思想僵化,迷信盛行,那它就不能前进,它的生机就停止了,就要亡党亡国!”这说明我们要坚持
- A. 解放思想 B. 艰苦奋斗 C. 拨乱反正 D. 团结一致
9. 图中年代尺④所在历史阶段的特征是



- A. 政权巩固 B. 十年动乱 C. 改革开放 D. 艰辛探索
10. 开启我国改革开放和社会主义现代化建设新时期的会议是中国共产党
- A. 十一届三中全会 B. 第十四次全国代表大会
- C. 十一届六中全会 D. 第十五次全国代表大会
11. 1984年,福建55位厂长、经理呼吁:“放权不能只限于上层部门之间的权力转移,更重要的是要把权力落实到基层企业。”他们希望
- A. 发展私有经济 B. 改变企业所有权 C. 扩大企业自主权 D. 实行按劳分配
12. 1993年4月1日,取消了粮票和油票,实行粮油商品敞开供应,伴随城镇居民近40年历程的各种票证就此谢幕。这一变化的基础是
- A. 建立人民公社 B. 商品经济发展 C. 全行业公私合营 D. 乡镇企业的兴起
13. 中国加入世界贸易组织20多年来,向44个最不发达国家提供免关税待遇,对全球经济增长的年均贡献率接近30%。这说明中国加入世界贸易组织
- A. 促进世界经济发展 B. 适应了文化多样化
- C. 维护国际和平安全 D. 推进了社会信息化
14. 2013年,习近平在十二届全国人大一次会议上指出“中国梦归根到底是人民的梦,必须紧紧依靠人民来实现,必须不断为人民造福。”据此可知,实现中国梦必须依靠
- A. 道路自信 B. 深化改革 C. 理论创新 D. 人民力量

15. 中国共产党提出“两个一百年”奋斗目标,已经实现了第一个百年目标是全面建成
- A. 和谐社会 B. 小康社会 C. 文明社会 D. 法治社会
16. “壮族三月三”被列入国家级非物质文化遗产名录。广西将“壮族三月三”确定为假期,广西人民放假2天。这些举措体现了重视少数民族的
- A. 文化传承 B. 经济发展 C. 科技创新 D. 法制建设
17. 自2005年起,中国人民解放军驻澳门部队已先后19次组织军营开放,澳门市民走进军营,体验部队训练生活,了解国防知识。这一举措
- A. 宣传科教兴国重要作用 B. 促进内地与澳门经贸联系
- C. 彰显澳门的高度自治权 D. 增强澳门民众祖国认同感
18. 我国国防和军队建设不断推进,以适应强国强军的时代要求。2015年,中国人民解放军调整组建五大军种,其中第二炮兵部队更名为
- A. 陆军 B. 海军 C. 空军 D. 火箭军
19. 1949年,毛泽东向全世界宣告:“凡愿遵守平等、互利及互相尊重领土主权等项原则的任何外国政府,本政府均愿与之建立外交关系。”这段话体现出我国
- A. 实行独立自主和平外交 B. 积极参与国际事务
- C. 发展与亚非国家的关系 D. 推进特色大国外交
20. 下图记录了1971年10月第26届联合国大会通过提案后,多国代表欢呼庆祝的场景。这次提案旨在
- A. 解决印度支那问题
- B. 组建亚洲投资银行
- C. 推动中美两国关系走向正常化
- D. 恢复中国在联合国的合法席位
- 
21. 屠呦呦萃取出古老文化的精华,通过千百次实验,深深植入当代世界,使全球数亿人受益。对屠呦呦评价恰当的是
- A. 青蒿济世、传承创新 B. 淡泊名利、两弹元勋
- C. 杂交水稻、惠泽苍生 D. 飞天揽月、漫步太空
22. 改革开放以来,城乡居民消费总量增长,消费结构优化,注重和享受文化、旅游、健身等多种休闲生活。这反映出我国人民
- A. 生活水平提高 B. 消费结构单一
- C. 居住环境改善 D. 出行方式多样

二、非选择题(23-24题,23题18分,24题16分,共34分。)请将答案填写在答题卡上

23. (18分)农业和农村的发展是我国社会主义建设事业的重要组成部分。阅读材料,回答问题。

材料一 废除地主阶级封建剥削的土地所有制,实行农民的土地所有制,借以解放农村生产力,发展农业生产,为新中国的工业化开辟道路。

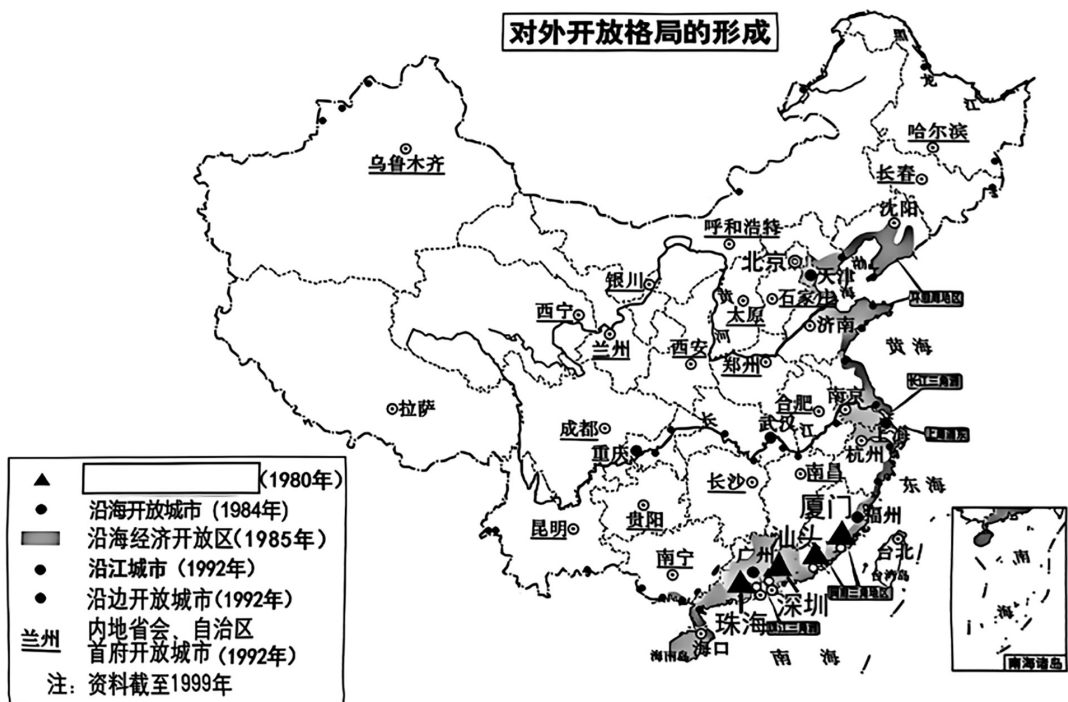
——《中华人民共和国土地改革法》

材料二 原桂林市穿山公社村民说:“土地承包前,出工一窝蜂,做事磨洋工,出工不出力是普遍现象。分地那天,白天土地被一一丈量完毕,承包到户。当天吃过晚饭,(我)扛着锹就下地了。到地一看,各家各户都在乘着月色大干快干了。”

——摘编自彭敏翎,等《百姓记忆:桂林1978—2008》

- (1)根据载体的不同,史料可以分为文献史料、实物史料、口述史料等。上述材料中,属于口述史料的是材料_____。(2分)
- (2)根据材料一并结合所学指出土地改革前后土地所有制的变化,并分析土地改革的目的。(8分)
- (3)根据材料二,指出在农村实施的新土地政策并分析这一政策的作用。(6分)
- (4)谈谈你从农业和农村发展中获得的启示。(2分)

24. (16分)历史地图有助于我们从时空状态去认识历史。阅读材料,回答问题。



- (1)结合所学将图例补充完整,方框处应填写_____。(2分)选择其中一个开放城市,根据地图并结合所学分析这个城市对外开放的有利条件。(6分)
- (2)在地图中找出位于广西的对外开放城市,写出其名称并指出它在对外开放格局中的开放类型。(4分)
- (3)根据地图概括我国对外开放格局推进的特点。(4分)

桂林市 2024~2025 学年度下学期期末调研试卷

八年级历史参考答案及评分标准

一、选择题（1-22 题，每小题 3 分，共 66 分。）

题号	1	2	3	4	5	6	7	8	9	10	11
答案	D	B	B	B	D	D	C	A	C	A	C
题号	12	13	14	15	16	17	18	19	20	21	22
答案	B	A	D	B	A	D	D	A	D	A	A

二、非选择题（23 题 18 分，24 题 16 分，34 分。）

23. （1）二（2分）

（2）废除地主阶级土地所有制（2分），实行农民土地所有制（2分）。

目的：解放农村生产力；促进农业发展；为新中国的工业化开辟道路。（4分。任答2点）

（3）家庭联产承包责任制或土地承包到户。（2分）农民的劳动积极性提高；促进农业生产的恢复和发展。（4分。意思相近即可）

（4）经济政策对生产的且有重要影响；要保护劳动者的利益，以调动他们的生产积极性；要重视农业生产；制定政策需与时俱进，适应时代的发展变化。（4分。任答一点，言之有理即可。）

24. （1）经济特区。（2分）

城市对外开放的有利条件：城市名称（2分）分析（条件2分，对应的合理解释2分）

【示例一】

厦门，靠近台湾，更有利于吸收台湾的资金、技术和市场资源地区等。

【示例二】

珠海，位于珠江口，便于开展国际贸易和海上运输。都在侨乡

（2）南宁（2分）；内地省会、自治区首府开放城市（2分）。

（3）特点：循序渐进；沿海优先开放；逐步向内陆扩展；点线面结合；加强重点区域开发建设。（4分。任答两点，言之有理即可）